

BALADES LUDIQUES POUR PETITS ET GRANDS

Bois des Gâts



Visiter,
se balader,
s'amuser!



Office de Tourisme de Châteaudun
1 Rue de Luynes,
28200 Châteaudun
02 37 45 22 46
www.chateaudun-tourisme.fr

Facile



2 km

1h45

Bois des Gâts

Départ: Bois des Gâts - Centre de Loisirs

GPS: 48.089615N / 1.325002E

Carnet de route

Soyez vigilants avec vos enfants. Le parcours s'effectue sous votre entière responsabilité. La société Randoland et l'Office de Tourisme déclinent toute responsabilité en cas d'accident.

Le départ s'effectue du parking le long du bois proche du centre de loisirs.

Observer la plaque "Aux Arbres" et l'arbre remarquable situé en face ①.

Emprunter le chemin qui s'enfonce dans le bois sur votre gauche. Prendre connaissance avec le plan des bois ②.

Continuer sur le chemin. Prendre à gauche en direction de l'observatoire à oiseaux puis directement légèrement à droite de la carte du parcours sportif ③.

Aux premier et deuxième croisements, continuer tout droit. Après avoir

commencé à descendre légèrement, un arbre remarquable divise le chemin en deux ④.

Prendre le chemin partant à droite de l'arbre. Après quelques virages en descente. Arriver à un plus grand chemin et prendre tout de suite à gauche. Des panneaux sont disposés au bord d'une mare ⑤.

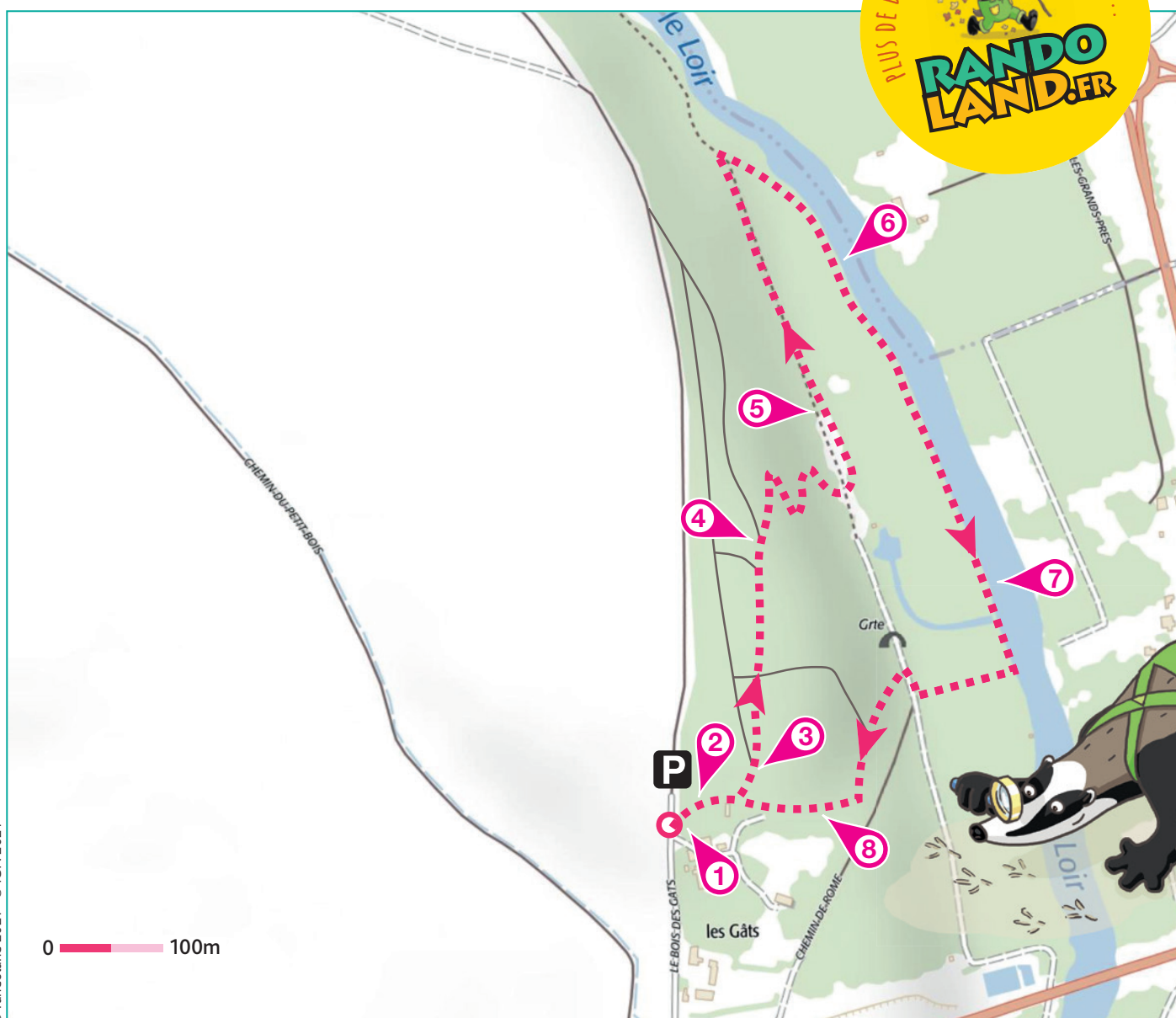
Une fois le Loir aperçu, prendre un virage serré à droite pour emprunter un chemin en herbe. Longer le Loir. Une maison se situe sur la rive opposée, observer le point de vue ⑥.

Continuer votre chemin. Plus loin, ce

sont des quais qui prennent place sur l'autre rive ⑦.

Après avoir traversé une passerelle en béton, tourner à droite. Au croisement, prendre à droite, puis un virage serré à gauche. Remonter le chemin. Continuer tout droit jusqu'à pouvoir observer la façade d'une ancienne maison ⑧.

Continuer par ce chemin jusqu'à votre retour au point de départ.






Bois des Gâts

L'Inspecteur Rando (en bas à gauche) part en balade. Mais par où va-t-il passer ?

Pour découvrir le chemin emprunté, réponds aux questions de la page suivante.

Chaque réponse t'indiquera l'étape suivante de l'Inspecteur Rando dans le labyrinthe. Attention, l'Inspecteur Rando ne doit jamais revenir sur ses pas et prend le chemin le plus court !

Chaque fois qu'il trouvera une châtaigne sur sa route, entoure, dans l'ordre, une châtaigne de la frise. En fin de parcours, note dans la case réponse le nombre de châtaignes trouvées.



Tu peux te rendre à l'Office de Tourisme ou sur le site www.randoland.fr pour vérifier ta réponse (code énigme 2808803P).


1	2	3	4	5	6	7	8	9	10	

Ta réponse



1 Aux arbres

À quel arbre parmi les suivants est dédié le panneau "Aux Arbres" ?
Tu vas découvrir la première étape du parcours de l'inspecteur rando..



2 La carte des bois

Quel pot de peinture n'a pas servi à peindre le logo de la ville de Châteaudun ?



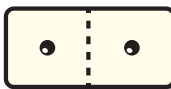
3 Le parcours sportif

Quel nuage de chiffre te permet de reconstituer la distance de la boucle verte ?



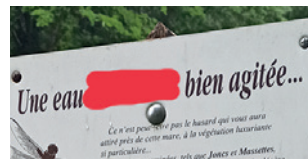
4 L'arbre remarquable

Combien de troncs constituent l'arbre qui sépare les deux chemins ?



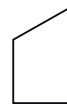
5 La mare

Quelles étiquettes te permettent d'écrire le mot caché sur la photo ci-contre ?




6 La maison

Laquelle de ces formes ressemble le plus à celle de cette maison ?



7 Les quais

Laquelle de ces photos a bien été prise ici ?



8 La façade

Combien y-a-t-il de fenêtres situées sur le toit (uniquement sur cette façade du bâtiment) ?





ÉNIGME

En se promenant dans ce bois, site naturel remarquable, et en admirant ses oiseaux et ses arbres, l'inspecteur Rando se souvient de sa visite au musée des Beaux-Arts et d'Histoire Naturelle. Il a eu l'occasion d'admirer une grande collection d'ornithologie (oiseaux) de près de 3000 espèces en provenance d'Europe, d'Asie, d'Afrique ou encore d'Amérique.

Mais il a du mal à se souvenir du nom de l'ornithologue originaire de Châteaudun qui a légué sa collection au musée.

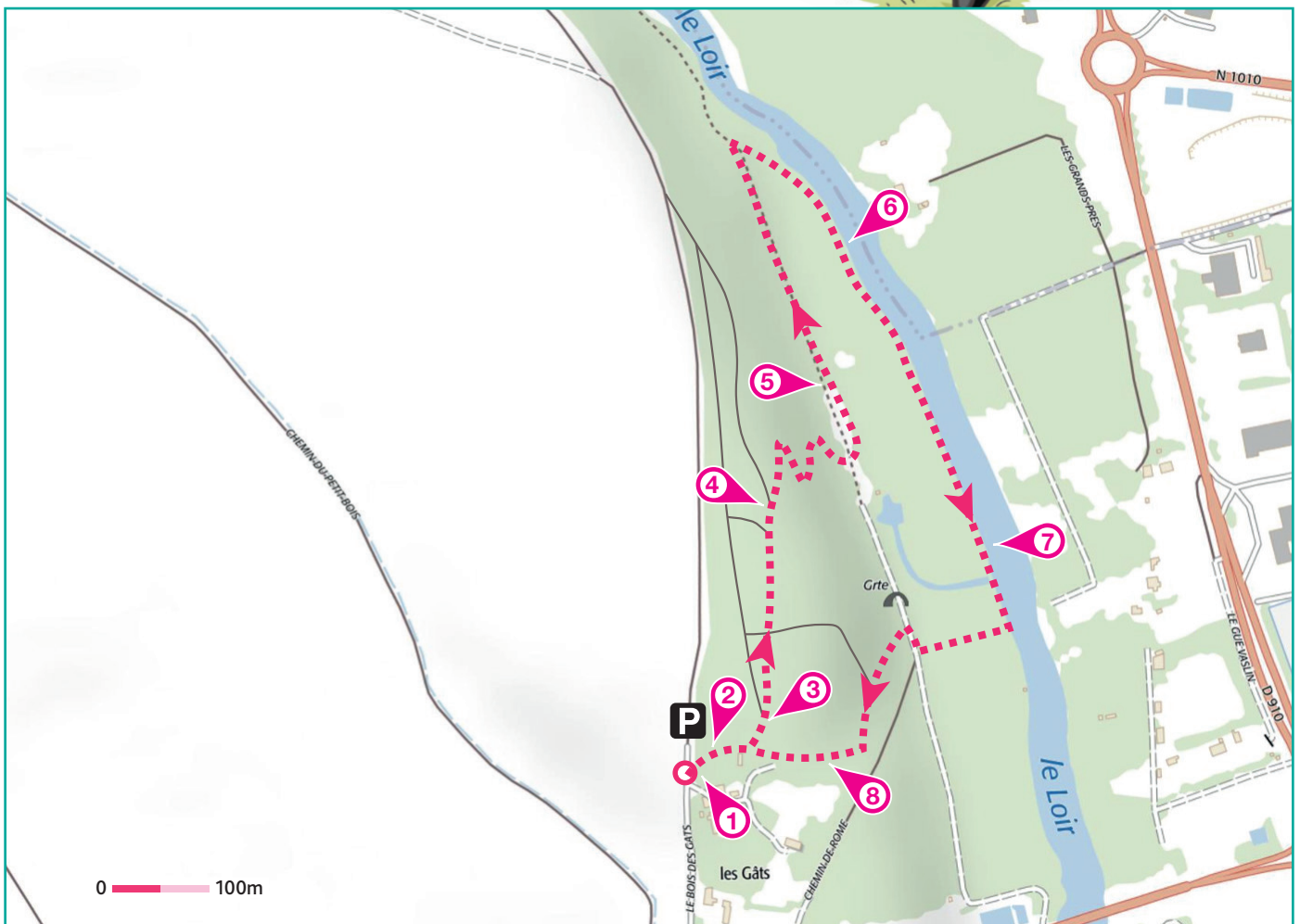
L'identité de cet homme intrigue l'inspecteur Rando. Aide-le à découvrir le prénom et le nom de cet homme !



Tu disposes du plan ci-dessous.

À l'emplacement des pastilles numérotées, lis les indications qui te permettront de résoudre l'énigme principale.

À la fin de ta balade, rends-toi à l'Office de Tourisme à Vauvert ou sur le site randoland.fr pour vérifier ta réponse.





Pour toutes les activités de cette fiche, reporte dans la grille de bas de page les réponses trouvées en face des nombres correspondants.

1 Aux arbres

Repère l'année de naissance de Victor Hugo sur la plaque "Aux Arbres". Classe les chiffres qui la composent dans l'ordre croissant (du plus petit au plus grand) dans les cases ci-dessous :

□ < □ < □ < □

Inscris le chiffre de la case bleutée, en lettres, dans la grille.

Ex. : 1445 = 1 < 4 < 5 = QUATRE

2 La carte des bois

Aide-toi de la légende pour trouver la réponse. Quel arbre pousse seulement dans la zone rouge ? Reporte son nom dans la grille.

UN PEU D'AIDE ?

Voici le nom des arbres associé au nom de la zone où on les trouve :

- Chênaie : Chêne
- Charmaie : Charme
- Frênaie : Frêne

- Aulnaie : Aulne
- Érablière : Érable
- Saulaie : Saule

3 Le parcours sportif

Sur le panneau du parcours sportif, trouve la distance de la boucle verte. Additionne tous les chiffres qui composent cette distance.

Ex : 2018 = 2+0+1+8 = 11

Double ton résultat. Ce chiffre est équivalent au rang d'une lettre dans l'alphabet.

Ex : 1=A ; 2=B ; 3=C etc...

Note la lettre que tu as trouvé dans la grille.

4 L'arbre remarquable

Combien de troncs constituent l'arbre qui sépare les deux chemins ?

- MARTIN : Deux
- XAVIER : Trois
- CÉLINE : Quatre


Inscris dans la grille le nom de l'enfant qui a donné la bonne réponse.

5 La mare

Complète le texte à trous suivant avec les lettres à ta disposition : TRICMOICORE

De l'autre ___ du _____

Reporte la lettre que tu as en trop dans la grille.

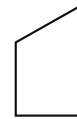


6 La maison

Laquelle de ces formes ressemble le plus à celle de cette maison ?



GINO



JILL



NINA

Note le prénom associé au bon schéma dans la grille.

7 Les quais

Résous l'opération sous la photo qui a bien été prise ici ?



ELDDAP



UAETAB



EUQRAB

Remets les lettres en ordre pour trouver le nom d'une petite embarcation.

Inscris son nom dans la grille.

8 La façade

Compte le nombre total de fenêtres sur cette façade. Attention de ne pas en oublier !

Reporte ce nombre, en lettres, dans la grille.

Grille réponse

1	→								
2	→								
3	→								
4	→								
5	→								
6	→								
7	→								
8	→								

Circuit n° 2808803M



Remets en ordre les caractères des cases colorées pour retrouver l'identité de l'ornithologue.

Ta réponse :





Bois des Gâts

ÉNIGME

La faune du bois des Gâts est très riche et regorge d'espèces d'animaux en tout genre. Le site, classé Natura 2000 est crucial pour la préservation de nombreuses espèces sensibles. Plus tôt dans la journée, l'inspecteur Rando s'est rendu à l'observatoire à oiseaux situé au cœur du bois en espérant apercevoir l'une des nombreuses espèces présentes dans le bois. Par chance, il a réussi à voir un oiseau qui l'a marqué par son élégance et ses splendides couleurs.

Apporte ton aide à l'inspecteur Rando et retrouvez ensemble le nom de cet oiseau ! Pars vite à la recherche d'indices qui te guideront vers la réponse.



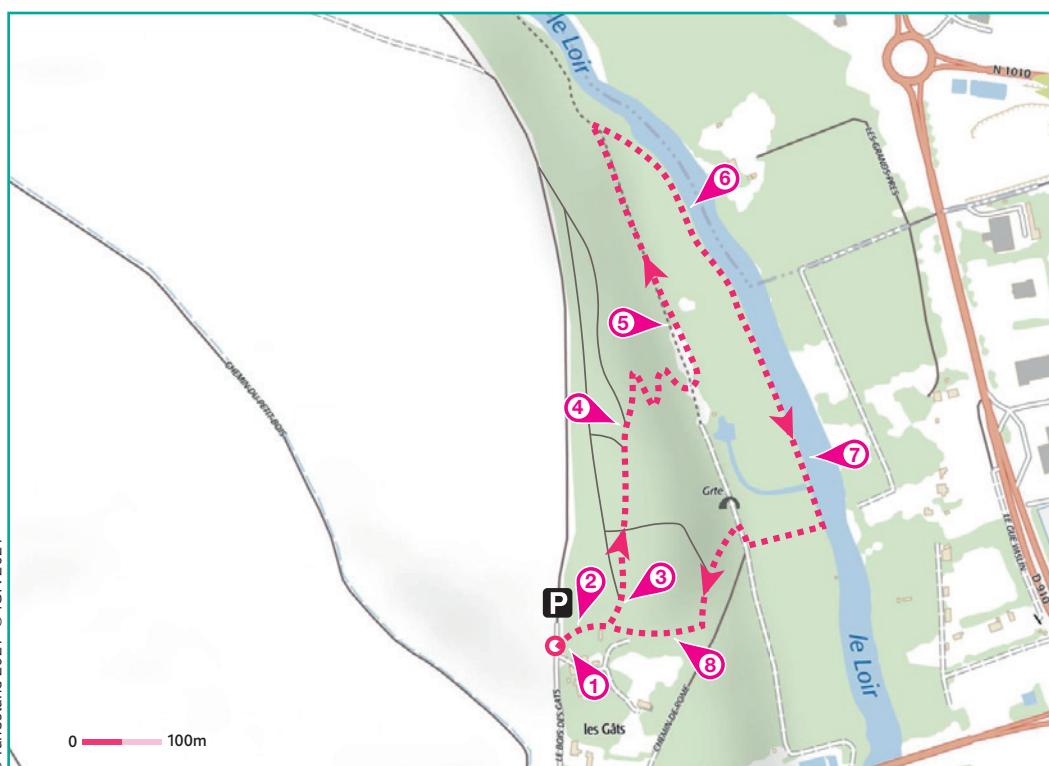
LISTE DES OISEAUX

- ▶ **Mésange Huppée**, mesure 12 cm, famille des Paridés
- ▶ **Pic-Mar**, mesure 22 cm, famille des Pucidés
- ▶ **Pic-Épeiche**, mesure 24 cm, famille des Pucidés
- ▶ **Sitelles Torchepot**, mesure 14 cm, famille des Sittidés
- ▶ **Verdier**, mesure 17 cm, famille des Fringillidés
- ▶ **Troglodyte**, mesure 10 cm, famille des Troglodytidés
- ▶ **Mésange Bleue**, mesure 12 cm, famille des Paridés
- ▶ **Rouge-Gorge**, mesure 14 cm, famille des Muscicapidés
- ▶ **Mésange à Longue Queue**, mesure 16 cm, famille des Aegithalidés

Tu disposes du plan ci-dessous.

À l'emplacement des pastilles numérotées, lis les indications qui te permettront de résoudre l'énigme principale.

À la fin de ta balade, rends-toi à l'Office de Tourisme à Vauvert ou sur le site randoland.fr pour vérifier ta réponse.





Lors du passage devant chacun des indices lis attentivement les indications fournies. Elles te permettront de résoudre l'énigme posée au verso de cette page.

1 Aux Arbres

Sur la plaque "Aux Arbres", trouve la date de mort de Victor Hugo. Additionne tous les chiffres qui composent cette date.

Ex : $2018 = 2 + 0 + 1 + 8 = 11$

Tu viens de trouver la taille d'un des oiseaux. Tu peux l'éliminer de la liste car ce n'est pas lui que tu cherches.

2 La carte des bois

Observe la carte du bois. Grâce à la légende, trouve la zone dans laquelle il y a des aulnes, des frênes, des chenaux et des clairières.

La couleur de cette zone devrait te faire penser à un des oiseaux. Tu peux le barrer de la liste.

3 Le parcours sportif

Observe la légende. Lis ces trois affirmations à propos des circuits de parcours sportifs. Qui a raison ? :

GABRIEL : La boucle verte est plus petite que la boucle rouge.

ISABELLE : La boucle rouge fait 880 mètres.

JEAN-PHILIPPE : Si je veux faire la boucle verte, je dois partir sur le Chemin de la Grosse Pierre.

La personne qui a raison a le même nombre de lettres dans son prénom que celui de la famille d'un des oiseaux. Raye-le de la liste !

UN PEU D'AIDE ?

Boucle Verte = 1050m

Boucle Rouge = 1930m - Boucle Verte

Boucle Orange = 1340m - Moitié de la Boucle Verte

4 L'arbre remarquable

Combien de troncs compte l'arbre qui est au centre de la séparation entre les deux chemins ?

C'est le chiffre des unités de la taille d'un des oiseaux restants.

Cette espèce est à supprimer de la liste.

5 La mare

Observe le premier panneau et son titre. Garde uniquement les lettres aux positions suivantes :

6 / 8 / 9 / 20 / 24

Ex : Un monde au ralenti = D / A / U etc...

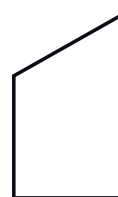
Le nom de quel oiseau peux-tu former avec ces lettres ? Ce n'est toujours pas celui-ci que tu cherches.

6 La maison

Laquelle de ces formes ressemble le plus à celle de cette maison ?



TRUITE



ARDÈCHE



AMANDIER


Le mot inscrit sous la bonne forme rime avec le nom de l'oiseau qu'il faut supprimer de la liste.

7 Les quais

Résous l'opération sous la photo qui a bien été prise ici.



$6 \times 4 - 7$



$8 \times 5 - 16$



$5 + 11$

Tu viens de trouver la taille d'un des oiseaux, tu peux l'éliminer de la liste.

8 La façade

Compte le nombre total de fenêtres sur cette façade. Attention de ne pas en oublier !

Ce nombre est également celui du nombre de lettres dans le nom d'un des deux oiseaux restants. Tu n'as plus qu'à le rayer de la liste.

Circuit n° 2808803G

Tu devrais avoir retrouvé le nom de ce petit oiseau jaune que l'inspecteur Rando a aperçu dans la forêt.

Ta réponse: